

MATEMÁTICAS DE CERCA

Desafíos

Pasatiempos Álgebra (II)

330
2019

NÚMEROS OCULTOS
 Descubre qué número oculta cada uno de estos cofres, teniendo en cuenta que un mismo cofre esconde siempre un mismo número.




 +  - 5 = 7
 14 +  -  =  + 
 = ?  = ?  = ? 16





El Pequeño País, 4 de diciembre de 1994








¿SABES SUMAR?
 Suponemos que sí, cuando se trata de cifras sin más, pero... ¿y estos símbolos?
 Escribe la solución en la parte de atrás de un sobre y envíanoslo a Abecelandia. Sorteamos un estupendo lote de libros





  
 +  5 
 1  

 1 




ABC, 19 de febrero de 1995

43  5
 x  2

 8635 
 43  5
 3  2225

 3   4  6 

CADA COSA EN SU LUGAR































 = 1
 = 2
 = 0

para poner en orden esta multiplicación sólo tienes que reemplazar cada animal por el número al que sustituye.

El Pequeño País, 26 de febrero de 1989

Ningún día sin leer

SUMA-BICHOS
 ¡Entérate de lo que vale un bicho!
 Sustituye los dibujos por números del 1 al 5 (siempre la misma cifra para el mismo animal) y conseguirás que el resultado de la suma sea correcto, tanto en sentido horizontal como vertical.

      = 17
      = 18
      = 17
      = 14
      = 21
 = 13 = 14 = 14 = 15 = 15 = 16

El Pequeño País, 24 de julio de 1994

Ningún día sin pensar